








## INVESTICE DO ROZVOJE VZDĚLÁVÁNÍ

	<b>ŠKOLA TYPU RODINNÉHO VZDĚLÁVÁNÍ</b> <i>Základní škola a Mateřská škola Tochovice</i> Tochovice 76 262 81 Tochovice IČO: 71 00 72 02 E-mail: zstochovice@atlas.cz, zsmstochovice@seznam.cz Tel.: 318 682 754 www.zstochovice.cz
-----------------------------------------------------------------------------------	--------------------------------------------------------------------------------------------------------------------------------------------------------------------------------------------------------------------------------------------------------

	<b>VY_52_INOVACE_PR1.02.2</b>
<b>Jméno autora</b>	Mgr. Zdeňka Zikmundová
<b>Datum ověření</b>	4. 11. 2011
<b>Ročník</b>	1.
<b>Vzdělávací oblast</b>	Člověk a jeho svět
<b>Předmět</b>	Prvouka
<b>Tematický okruh</b>	Naše rodina – členové rodiny
<b>Klíčová slova</b>	Táta, máma, bratr, sestra, já; nejmladší - nejstarší
<b>Anotace</b>	Pracovní list bude použit k samostatné práci žáků po předchozím výkladu učitele. Je zaměřen na vyjmenování členů rodiny a určení počtu členů v rodině. Žák rozliší generační rozdíly mezi členy rodiny. Použitý materiál: <a href="http://www.i.creative.cz">http://www.i.creative.cz</a> <a href="http://www.omalovánky-dětské">http://www.omalovánky-dětské</a>
<b>Druh učebního materiálu</b>	Pracovní list

**Naše rodina – členové rodiny**

1. Namaluj obrázek:

TÁTA	MÁMA	JÁ	.....	.....
				

2. Kolik členů má vaše rodina? Zakroužkuj:

1      2      3      4      5      6

3. Kdo je nejmladší? Vymaluj mu na dortu správný počet svíček.



Nejmladší je: BRATR    SESTRA    JÁ

4. Kolik je nejmladšímu členovi rodiny let? Zakroužkuj:

1      2      3      4      5      6      7      8

## Pracovní list č. 2 – prvouka 1. ročník – řešení

### Naše rodina – členové rodiny

1. Namaluj obrázek: **žák namaluje rodiče, sebe, sourozence a napíše jejich**

**jména**

**TÁTA**

**MÁMA**

**JÁ**

.....

.....

--	--	--	--	--

2. Kolik členů má vaše rodina? Zakroužkuj: **žák zakroužkuje počet členů rodiny**

1

2

3

4

5

6

3. Kdo je nejmladší? Vymaluj mu na dortu správný počet svíček. **Žák vymaluje nebo přimaluje svíčky na dort a označí nejmladšího člena rodiny, např. SESTRA**



Nejmladší je: **BRATR SESTRA JÁ**

4. Kolik je nejmladšímu členovi rodiny let? Zakroužkuj: **žák vybere správné číslo podle skutečnosti**

1

2

3

4

5

6

7

8